

МИНИСТЕРСТВО СЕЛЬСКОГО ХОЗЯЙСТВА РОССИЙСКОЙ ФЕДЕРАЦИИ

Федеральное государственное бюджетное образовательное учреждение
высшего образования

« Якутская государственная сельскохозяйственная академия »

Кафедра Энергообеспечение в АПК



УТВЕРЖДАЮ
Проректор по УиВР
А.Г. Черкашина
2019 г.

Б1.О.10 Физика

РАБОЧАЯ ПРОГРАММА ДИСЦИПЛИНЫ (МОДУЛЯ)

Закреплена за кафедрой	Энергообеспечение в АПК
Учебный план	б35030701_19_1_Tex.rlx 35.03.07 Технология производства и переработки сельскохозяйственной
Квалификация	бакалавр
Форма обучения	очная
Общая трудоемкость/лет	3 ЗЕТ
Часов по учебному плану	108
в том числе:	
аудиторные занятия	40
самостоятельная работа	39
часов на контроль	26,7

Виды контроля на курсах:
зачеты 2

Распределение часов дисциплины по семестрам

Курс	2(1,2)		Итого	
	19	5/6		
Неделя				
Вид занятий	УП	РП	УП	РП
Лекции	20	20	20	20
Практические	20	20	20	20
Консультации	2	2	2	2
Контактная работа во время экзамена	0,3	0,3	0,3	0,3
Итого ауд.	40	40	40	40
Контактная работа	42,3	42,3	42,3	42,3
Сам. работа	39	39	39	39
Часы на контроль	26,7	26,7	26,7	26,7
Итого	108	108	108	108

Рабочая программа дисциплины

Физика

разработана в соответствии с ФГОС:


Федеральный государственный образовательный стандарт высшего образования по направлению подготовки 35.03.07 Технология производства и переработки сельскохозяйственной продукции (уровень бакалавриата) (приказ Минобрнауки России от 17.07.2017г. №669)

составлена на основании учебного плана:

35.03.07 Технология производства и переработки сельскохозяйственной продукции


утвержденного учёным советом вуза от 04.04.2019 протокол № 23.

Разработчик (и) РПД:

старший преподаватель, Герасимова Галина Афанасьевна 

Рабочая программа одобрена на заседании кафедры

Энергообеспечение в АПК

Протокол от  2019 г. № 11 от 06.04.19г

Срок действия программы: уч.г.

Зав. кафедрой Иванов Александр Кузьмич

Руководитель направления :

 /Гоголева П.А./

Зав. профилирующей кафедры

 /Гоголева П.А./


Протокол заседания кафедры от 08.04. 2019 г. № 57

Председатель МК факультета

 /Захарова Л.Н./

Протокол заседания МК факультета от 12.04 2019 г. № 8

Председатель УМС ФГБОУ ВО Якутская ГСХА

 /Сивцев Н.А./

Протокол заседания УМС от 18.04. 2019 г. № 4

Визирование РПД для исполнения в очередном учебном году

Председатель МК

15.06 2023 г. № *128*

Рабочая программа пересмотрена, обсуждена и одобрена для исполнения в 2023-2024 учебном году на заседании кафедры **Пищевых технологий и индустрии питания**

Протокол от *22.05* 2023 г. № *110*
Зав. кафедрой Гоголева П.А. *Гоголев*

Визирование РПД для исполнения в очередном учебном году

Председатель МК

_____ 2024 г.

Рабочая программа пересмотрена, обсуждена и одобрена для исполнения в 2024-2025 учебном году на заседании кафедры **Пищевых технологий и индустрии питания**

Протокол от _____ 2024 г. № ____
Зав. кафедрой Гоголева П.А.

Визирование РПД для исполнения в очередном учебном году

Председатель МК

_____ 2025 г.

Рабочая программа пересмотрена, обсуждена и одобрена для исполнения в 2025-2026 учебном году на заседании кафедры **Пищевых технологий и индустрии питания**

Протокол от _____ 2025 г. № ____
Зав. кафедрой Гоголева П.А.

Визирование РПД для исполнения в очередном учебном году

Председатель МК

_____ 2026 г.

Рабочая программа пересмотрена, обсуждена и одобрена для исполнения в 2026-2027 учебном году на заседании кафедры **Пищевых технологий и индустрии питания**

Протокол от _____ 2026 г. № ____
Зав. кафедрой Гоголева П.А.

1. ЦЕЛИ И ЗАДАЧИ ОСВОЕНИЯ УЧЕБНОЙ ДИСЦИПЛИНЫ (МОДУЛЯ)

- ознакомление студентов с основными законами физики и возможностями их применения при решении задач, возникающих в их последующей профессиональной деятельности.
- изучение законов окружающего мира в их взаимосвязи;
- овладение фундаментальными принципами и методами решения научно-технических задач;
- формирование навыков по применению положений фундаментальной физики к грамотному научному анализу ситуаций;
- освоение основных физических теорий, позволяющих описать явления в природе, и пределов применимости этих теорий для решения современных и перспективных технологических задач;
- формирование у студентов основ естественнонаучной картины мира.

2. ПЕРЕЧЕНЬ ПЛАНИРУЕМЫХ РЕЗУЛЬТАТОВ ОБУЧЕНИЯ ПО ДИСЦИПЛИНЕ (МОДУЛЮ), СООТНЕСЕННЫХ С ПЛАНИРУЕМЫМИ РЕЗУЛЬТАТАМИ ОСВОЕНИЯ ОБРАЗОВАТЕЛЬНОЙ ПРОГРАММЫ

ОПК-1.1: Использует основные законы естественнонаучных дисциплин для решения стандартных задач в области производства, переработки и хранения сельскохозяйственной продукции

Знать:

Демонстрирует четкое и целостное представление об основных фундаментальных законах и готовность к адекватному применению при решении практических задач.

Уметь:

Проводить физические измерения и обработку их результатов, работать с информацией из различных источников для решения профессиональных задач.

Владеть:

навыками обработки экспериментальных данных (способность правильно выбирать измерительную аппаратуру с учетом класса точности, оценивать результаты измерений, проводить анализ погрешностей).

УК-1.1: Анализирует задачу, выделяя этапы ее решения, действия по решению задачи, оценивая их преимущества и недостатки

Знать:

Достаточно знает и анализирует задачу, выделяя этапы ее решения, действия по решению задачи, оценивая их преимущества и недостатки

Уметь:

Достаточно умеет анализировать задачу, выделяя этапы ее решения, действия по решению задачи, оценивая их преимущества и недостатки

Владеть:

Достаточно владеет навыками анализа задачи, выделяя этапы ее решения, действия по решению задачи, оценивая их преимущества и недостатки

УК-1.2: Находит, выбирает и критически анализирует информацию, необходимую для решения поставленной задачи

Знать:

Достаточно знает поиск, выбор и критически анализирует информацию, необходимой для решения поставленной задачи
Уметь:
Достаточно умеет находить, выбирать и критически анализировать информацию, необходимой для решения поставленной задачи
Владеть:
Достаточно владеет навыками поиска, выбора и критического анализа информации, необходимой для решения поставленной задачи

УК-1.3: Грамотно, логично, аргументированно формирует собственные суждения и оценки. Отличает факты от мнений, интерпретаций, оценок в рассуждениях других участников деятельности
Знать:
Достаточно знает и грамотно, логично, аргументированно формирует собственные суждения и оценки. Отличает факты от мнений
Уметь:
Достаточно умеет грамотно, логично, аргументированно формировать собственные суждения и оценки. Отличает факты от мнений, интерпретаций, оценок в рассуждениях других участников деятельности
Владеть:
Достаточно владеет навыками собственного суждения и оценки. Отличает факты от мнений, интерпретаций, оценок в рассуждениях других участников деятельности

В результате освоения дисциплины обучающийся должен

2.1	Знать:
2.1.1	основные законы природы и модели окружающего мира, теоретические и методические основы физических исследований, методику решения задач по общепринятым разделам физики; основные характеристики и эколого-экономические проблемы использования различных физических достижений в хозяйственной деятельности человека.
2.2	Уметь:
2.2.1	использовать современные методы контроля природопользования согласно нормативным параметрам;
2.2.2	применять на практике основные законы и достижения физики в деятельности будущего специалиста.
2.3	Владеть:
2.3.1	методикой проведения эксперимента;
2.3.2	методами вычислительной математики для обработки экспериментальных данных.

3. МЕСТО ДИСЦИПЛИНЫ (МОДУЛЯ) В СТРУКТУРЕ ОБРАЗОВАТЕЛЬНОЙ ПРОГРАММЫ	
Цикл (раздел) ООП:	Б1.О
3.1	Требования к предварительной подготовке обучающегося:
3.1.1	Для успешного освоения дисциплины студент должен иметь базовую подготовку по элементарной физике в объеме программы средней школы.
3.1.2	Химия
3.1.3	Математика
3.2	Дисциплины и практики, для которых освоение данной дисциплины (модуля) необходимо как предшествующее:

3.2.1	необходимы для успешного освоения :
3.2.2	Механизация и автоматизация технологических процессов растениеводства и животноводства
3.2.3	Учебная практика: технологическая практика

4. ОБЪЕМ ДИСЦИПЛИНЫ (МОДУЛЯ) В ЗАЧЕТНЫХ ЕДИНИЦАХ С УКАЗАНИЕМ КОЛИЧЕСТВА АКАДЕМИЧЕСКИХ ЧАСОВ, ВЫДЕЛЕННЫХ НА КОНТАКТНУЮ РАБОТУ ОБУЧАЮЩИХСЯ С ПРЕПОДАВАТЕЛЕМ (ПО ВИДАМ УЧЕБНЫХ ЗАНЯТИЙ) И НА САМОСТОЯТЕЛЬНУЮ РАБОТУ ОБУЧАЮЩИХСЯ

Распределение часов дисциплины по

Семестр (<Курс>.<Семестр на курсе>)	2 (1.2)		Итого	
Неделя	19 5/6			
Вид занятий	уп	рп	уп	рп
Лекции	20	20	20	20
Практические	20	20	20	20
Консультации	2	2	2	2
Контактная работа во время экзамена	0,3	0,3	0,3	0,3
Итого ауд.	40	40	40	40
Контактная работа	42,3	42,3	42,3	42,3
Сам. работа	39	39	39	39
Часы на контроль	26,7	26,7	26,7	26,7
Итого	108	108	108	108

Общая трудоемкость дисциплины (з.е.) **3 ЗЕТ**

5. СОДЕРЖАНИЕ ДИСЦИПЛИНЫ (МОДУЛЯ), СТРУКТУРИРОВАННОЕ ПО ТЕМАМ (РАЗДЕЛАМ) С УКАЗАНИЕМ ОТВЕДЕННОГО НА НИХ КОЛИЧЕСТВА АКАДЕМИЧЕСКИХ ЧАСОВ И ВИДОВ УЧЕБНЫХ ЗАНЯТИЙ. ПЕРЕЧЕНЬ УЧЕБНО-МЕТОДИЧЕСКОГО ОБЕСПЕЧЕНИЯ ДЛЯ САМОСТОЯТЕЛЬНОЙ РАБОТЫ ОБУЧАЮЩИХСЯ ПО ДИСЦИПЛИНЕ (МОДУЛЮ)

Код занятия	Наименование разделов и тем /вид занятия/	Семестр / Курс	Часов	Компетенции	Литература	Инте пакт.	Примечание
	Раздел 1.ФИЗИЧЕСКИЕ ОСНОВЫ МЕХАНИКИ						
1.1	Тема 1.1. Кинематика точки и поступательного движения твердого тела. Динамика поступательного движения. /Лек/	2	1	ОПК-1.1 УК-1.1 УК -1.2 УК- 1.3	Л1.1 Л1.2Л2.1 Л2.2 Э1 Э2 Э3 Э4 Э5 Э6 Э7	0	
1.2	Кинематика и динамика поступательного движения /Пр/	2	2	ОПК-1.1 УК-1.1 УК -1.2 УК- 1.3	Л1.1 Л1.2Л2.1 Л2.2 Э1 Э2 Э3 Э4 Э5 Э6 Э7	0	
1.3	Тема 1.2. Динамика твердого тела. /Лек/	2	1	ОПК-1.1 УК-1.1 УК -1.2 УК- 1.3	Л1.1 Л1.2Л2.1 Л2.2 Э1 Э2 Э3 Э4 Э5 Э6 Э7	0	
1.4	Динамика твердого тела. Момент инерции /Пр/	2	2	ОПК-1.1 УК-1.1 УК -1.2 УК- 1.3	Л1.1 Л1.2Л2.1 Л2.2 Э1 Э2 Э3 Э4 Э5 Э6 Э7	0	
1.5	СРС № 1 /Ср/	2	6	ОПК-1.1 УК-1.1 УК -1.2 УК- 1.3	Л1.1 Л1.2Л2.1 Л2.2 Э1 Э2 Э3 Э4 Э5 Э6 Э7	0	
	Раздел 2.КОЛЕБАНИЯ И ВОЛНЫ						

2.1	Тема 2.1. Механические колебания. /Лек/	2	1	ОПК-1.1 УК-1.1 УК-1.2 УК-1.3	Л1.1 Л1.2Л2.1 Л2.2 Э1 Э2 Э3 Э4 Э5 Э6 Э7	0	
2.2	Механические и электромагнитные колебания /Пр/	2	1	ОПК-1.1 УК-1.1 УК-1.2 УК-1.3	Л1.1 Л1.2Л2.1 Л2.2 Э1 Э2 Э3 Э4 Э5 Э6 Э7	0	
2.3	Тема 2.2. Волновое движение. /Лек/	2	1	ОПК-1.1 УК-1.1 УК-1.2 УК-1.3	Л1.1 Л1.2Л2.1 Л2.2 Э1 Э2 Э3 Э4 Э5 Э6 Э7	0	
2.4	Упругие и электромагнитные волны /Пр/	2	1	ОПК-1.1 УК-1.1 УК-1.2 УК-1.3	Л1.1 Л1.2Л2.1 Л2.2 Э1 Э2 Э3 Э4 Э5 Э6 Э7	0	
2.5	СРС №2 /Ср/	2	7	ОПК-1.1 УК-1.1 УК-1.2 УК-1.3	Л1.1 Л1.2Л2.1 Л2.2 Э1 Э2 Э3 Э4 Э5 Э6 Э7	0	
Раздел 3.ОСНОВЫ МОЛЕКУЛЯРНОЙ ФИЗИКИ И ТЕРМОДИНАМИКИ							
3.1	Тема 3.1. Основы молекулярно-кинетической теории. /Лек/	2	1	ОПК-1.1 УК-1.1 УК-1.2 УК-1.3	Л1.1 Л1.2Л2.1 Л2.2 Э1 Э2 Э3 Э4 Э5 Э6 Э7	0	
3.2	Молекулярно-кинетическая теория идеальных газов /Пр/	2	1	ОПК-1.1 УК-1.1 УК-1.2 УК-1.3	Л1.1 Л1.2Л2.1 Л2.2 Э1 Э2 Э3 Э4 Э5 Э6 Э7	0	
3.3	Тема 3.2. Явления переноса. /Лек/	2	1	ОПК-1.1 УК-1.1 УК-1.2 УК-1.3	Л1.1 Л1.2Л2.1 Л2.2 Э1 Э2 Э3 Э4 Э5 Э6 Э7	0	
3.4	Тема 3.3. Законы термодинамики. /Лек/	2	1	ОПК-1.1 УК-1.1 УК-1.2 УК-1.3	Л1.1 Л1.2Л2.1 Л2.2 Э1 Э2 Э3 Э4 Э5 Э6 Э7	0	
3.5	Основы термодинамики /Пр/	2	1	ОПК-1.1 УК-1.1 УК-1.2 УК-1.3	Л1.1 Л1.2Л2.1 Л2.2 Э1 Э2 Э3 Э4 Э5 Э6 Э7	0	
3.6	СРС № 3 /Ср/	2	7	УК-1.1 УК-1.2 УК-1.3	Л1.1 Л1.2Л2.1 Л2.2 Э1 Э2 Э3 Э4 Э5 Э6 Э7	0	
Раздел 4.ЭЛЕКТРИЧЕСТВО И МАГНЕТИЗМ							
4.1	Тема 4.1. Электростатика. /Лек/	2	1	ОПК-1.1 УК-1.1 УК-1.2 УК-1.3	Л1.1 Л1.2Л2.1 Л2.2 Э1 Э2 Э3 Э4 Э5 Э6 Э7	0	
4.2	Тема 4.2. Постоянный электрический ток. /Лек/	2	2	ОПК-1.1 УК-1.1 УК-1.2 УК-1.3	Л1.1 Л1.2Л2.1 Л2.2 Э1 Э2 Э3 Э4 Э5 Э6 Э7	0	
4.3	Постоянный электрический ток /Пр/	2	1	ОПК-1.1 УК-1.1 УК-1.2 УК-1.3	Л1.1 Л1.2Л2.1 Л2.2 Э1 Э2 Э3 Э4 Э5 Э6 Э7	0	

4.4	Тема 4.3. Магнитное поле. /Лек/	2	1	ОПК-1.1 УК-1.1 УК -1.2 УК- 1.3	Л1.1 Л1.2Л2.1 Л2.2 Э1 Э2 Э3 Э4 Э5 Э6 Э7	0	
4.5	Магнитное поле /Пр/	2	1	ОПК-1.1 УК-1.1 УК -1.2 УК- 1.3	Л1.1 Л1.2Л2.1 Л2.2 Э1 Э2 Э3 Э4 Э5 Э6 Э7	0	
4.6	Электромагнитная индукция /Пр/	2	1	ОПК-1.1 УК-1.1 УК -1.2 УК- 1.3	Л1.1 Л1.2Л2.1 Л2.2 Э1 Э2 Э3 Э4 Э5 Э6 Э7	0	
4.7	Тема 4.4. Электромагнитные колебания. /Лек/	2	1	ОПК-1.1 УК-1.1 УК -1.2 УК- 1.3	Л1.1 Л1.2Л2.1 Л2.2 Э1 Э2 Э3 Э4 Э5 Э6 Э7	0	
4.8	Магнитные свойства вещества /Пр/	2	1	ОПК-1.1 УК-1.1 УК -1.2 УК- 1.3	Л1.1 Л1.2Л2.1 Л2.2 Э1 Э2 Э3 Э4 Э5 Э6 Э7	0	
4.9	СРС №4 /Ср/	2	7	ОПК-1.1 УК-1.1 УК -1.2 УК- 1.3	Л1.1 Л1.2Л2.1 Л2.2 Э1 Э2 Э3 Э4 Э5 Э6 Э7	0	
	Раздел 5.ОПТИКА						
5.1	Тема 5.1. Основные характеристики и закономерности геометрической оптики. /Лек/	2	1	ОПК-1.1 УК-1.1 УК -1.2 УК- 1.3	Л1.1 Л1.2Л2.1 Л2.2 Э1 Э2 Э3 Э4 Э5 Э6 Э7	0	
5.2	Тема 5.2. Элементы волновой теории света. /Лек/	2	2	ОПК-1.1 УК-1.1 УК -1.2 УК- 1.3	Л1.1 Л1.2Л2.1 Л2.2 Э1 Э2 Э3 Э4 Э5 Э6 Э7	0	
5.3	Взаимодействие электромагнитных волн с веществом /Пр/	2	1	ОПК-1.1 УК-1.1 УК -1.2 УК- 1.3	Л1.1 Л1.2Л2.1 Л2.2 Э1 Э2 Э3 Э4 Э5 Э6 Э7	0	
5.4	Поляризация света /Пр/	2	1	ОПК-1.1 УК-1.1 УК -1.2 УК- 1.3	Л1.1 Л1.2Л2.1 Л2.2 Э1 Э2 Э3 Э4 Э5 Э6 Э7	0	
5.5	Тема 5.3. Основные характеристики и закономерности квантовой оптики. /Лек/	2	1	ОПК-1.1 УК-1.1 УК -1.2 УК- 1.3	Л1.1 Л1.2Л2.1 Л2.2 Э1 Э2 Э3 Э4 Э5 Э6 Э7	0	
5.6	Квантовая природа излучения /Пр/	2	2	ОПК-1.1 УК-1.1 УК -1.2 УК- 1.3	Л1.1 Л1.2Л2.1 Л2.2 Э1 Э2 Э3 Э4 Э5 Э6 Э7	0	
5.7	СРС № 5 /Ср/	2	5	ОПК-1.1 УК-1.1 УК -1.2 УК- 1.3	Л1.1 Л1.2Л2.1 Л2.2 Э1 Э2 Э3 Э4 Э5 Э6 Э7	0	
	Раздел 6.АТОМНАЯ и ЯДЕРНАЯ ФИЗИКА						
6.1	Тема 6.1. Строение атома. Теория Бора. /Лек/	2	2	ОПК-1.1 УК-1.1 УК -1.2 УК- 1.3	Л1.1 Л1.2Л2.1 Л2.2 Э1 Э2 Э3 Э4 Э5 Э6 Э7	0	

6.2	Теория атома водорода по Бору /Пр/	2	2	ОПК-1.1 УК-1.1 УК -1.2 УК- 1.3	Л1.1 Л1.2Л2.1 Л2.2 Э1 Э2 Э3 Э4 Э5 Э6 Э7	0	
6.3	Тема 6.2. Строение и свойства атомных ядер. /Лек/	2	2	ОПК-1.1 УК-1.1 УК -1.2 УК- 1.3	Л1.1 Л1.2Л2.1 Л2.2 Э1 Э2 Э3 Э4 Э5 Э6 Э7	0	
6.4	Элементы квантовой механики /Пр/	2	2	ОПК-1.1 УК-1.1 УК -1.2 УК- 1.3	Л1.1 Л1.2Л2.1 Л2.2 Э1 Э2 Э3 Э4 Э5 Э6 Э7	0	
6.5	СРС №6 /Ср/	2	7	ОПК-1.1 УК-1.1 УК -1.2 УК- 1.3	Л1.1 Л1.2Л2.1 Л2.2 Э1 Э2 Э3 Э4 Э5 Э6 Э7	0	
6.6	/Экзамен/	2	26,7	ОПК-1.1 УК-1.1 УК -1.2 УК- 1.3	Л1.1 Л1.2Л2.1 Л2.2 Э1 Э2 Э3 Э4 Э5 Э6 Э7	0	
6.7	/Конс/	2	2	ОПК-1.1 УК-1.1 УК -1.2 УК- 1.3	Л1.1 Л1.2Л2.1 Л2.2 Э1 Э2 Э3 Э4 Э5 Э6 Э7	0	
6.8	/КЭ/	2	0,3	ОПК-1.1 УК-1.1 УК -1.2 УК- 1.3	Л1.1 Л1.2Л2.1 Л2.2 Э1 Э2 Э3 Э4 Э5 Э6 Э7	0	

6. ФОНД ОЦЕНОЧНЫХ СРЕДСТВ ДЛЯ ПРОВЕДЕНИЯ ПРОМЕЖУТОЧНОЙ АТТЕСТАЦИИ ОБУЧАЮЩИХСЯ ПО ДИСЦИПЛИНЕ (МОДУЛЮ)

Система контроля за ходом и качеством усвоения студентами содержания данной дисциплины включает следующие виды:

Текущий контроль – проводится систематически с целью установления уровня овладения студентами учебного материала в течение семестра. К формам текущего контроля относятся: опрос, тестирование (Т), контрольной работы (К).

Выполнение этих работ является обязательным для всех студентов, а результаты являются основанием для выставления оценок (баллов) текущего контроля.

Промежуточный контроль – оценка уровня освоения материала по самостоятельным разделам дисциплины. Проводится в заранее определенные сроки. Проводится два промежуточных контроля в семестр. В качестве форм контроля применяют коллоквиумы, контрольные работы, самостоятельное выполнение студентами домашних заданий с отчетом (защитой), тестирование по материалам дисциплины.

Итоговый контроль – оценка уровня освоения дисциплины по окончании ее изучения в форме зачета (экзамена). Фонд оценочных средств для проведения промежуточной аттестации обучающихся по дисциплине (модулю) включает в себя:

- Перечень компетенций с указанием этапов их формирования в процессе освоения образовательной программы;
- Описание показателей и критериев оценивания компетенций на этапе изучения дисциплины, описание шкал оценивания;
- Типовые контрольные задания или иные материалы, необходимые для оценки знаний, умений и навыков и (или) опыта деятельности, характеризующих этапы формирования компетенций в процессе освоения образовательной программы;
- Методические материалы, определяющие процедуры оценивания знаний, умений, навыков и (или) опыта деятельности, характеризующих этапы формирования компетенций.

Фонд оценочных средств прилагается к рабочей программе дисциплины как приложение.

Фонд оценочных средств (ФОС) - комплекты методических и оценочных материалов, методик и процедур, предназначенных для определения соответствия или несоответствия уровня достижений обучающихся планируемым результатам обучения. ФОС должны соответствовать ФГОС и ООП, целям и задачам обучения, предметной области, быть достижимыми, исполнимыми, включать полноту представления материалов.

При составлении ФОС для каждого результата обучения по дисциплине, модулю, практике необходимо

7. УЧЕБНО-МЕТОДИЧЕСКОЕ И ИНФОРМАЦИОННОЕ ОБЕСПЕЧЕНИЕ ДИСЦИПЛИНЫ (МОДУЛЯ)

7.1. Перечень основной и дополнительной литературы, необходимой для освоения дисциплины (модуля)			
7.1.1. Основная литература			
	Авторы, составители	Заглавие	Издательство, год
Л1.1	Грабовский Р. И.	Курс физики: учебник	Санкт-Петербург: Лань, 2002
Л1.2	Айзензон А. Е.	Физика: учебник и практикум для вузов	Москва: Юрайт; Режим доступа: https://urait.ru/bcode/489456 , 2022
7.1.2. Дополнительная литература			
	Авторы, составители	Заглавие	Издательство, год
Л2.1	Безверхняя Р. Ц., Грабовский Р. И.	Сборник задач по физике: учебное пособие для студентов высших учебных заведений	Санкт-Петербург [и др.]: Лань, 2004
Л2.2	Кравченко Н. Ю.	Физика: учебник и практикум для вузов	Москва: Юрайт; Режим доступа: https://urait.ru/bcode/488428 , 2022
7.2. Перечень ресурсов информационно-телекоммуникационной сети "Интернет", необходимых для освоения дисциплины (модуля)			
Э1	электронно-библиотечная система. Издательство «Лань»		
Э2	научная библиотека академии		
Э3	база электронных учебно-методических материалов библиотеки		
Э4	Единая библиотечная система		
Э5	Национальная библиотека Республики Саха (Якутия)		
Э6	Интернет тренажер по физике		
Э7	Юрайт электронная библиотека		
7.3. Перечень информационных технологий, используемых при осуществлении образовательного процесса по дисциплине (модулю), включая перечень программного обеспечения и информационных справочных систем			
7.3.1.1	LIBREOFFICE		
7.3.1.2	ПО «Визуальная студия тестирования». Комплекс для создания тестов и тестирования		
7.3.2 Перечень информационных справочных систем			
7.3.2.1	Википедия		
7.3.2.2	федеральный портал Российское образование		
7.3.2.3	справочно-информационный портал ГРАМОТА.РУ		
8. ОПИСАНИЕ МАТЕРИАЛЬНО-ТЕХНИЧЕСКОЙ БАЗЫ, НЕОБХОДИМОЙ ДЛЯ ОСУЩЕСТВЛЕНИЯ ОБРАЗОВАТЕЛЬНОГО ПРОЦЕССА ПО ДИСЦИПЛИНЕ (МОДУЛЮ)			

Для обучающихся лиц предоставляются:

№ 2.310. Учебная аудитория для занятий лекционного типа, семинарского типа, для групповых и индивидуальных консультаций, для текущего контроля и промежуточной аттестации.

- 1) Набор демонстрационного оборудования
- 2) Графический эквалайзер – 1 шт.
- 3) Поточный громкоговоритель – 1шт.
- 4) Силовой усилитель – 1шт.
- 5) Аудиоменный консол – 1 шт.
- 6) Стол – 37 шт.
- 7) Стул – 75 шт.

№ 2.318. Лаборатория биофизики.

Учебная аудитория для занятий семинарского типа, для групповых и индивидуальных консультаций, для текущего контроля и промежуточной аттестации

- 1) Компьютеры типа DEPO Neon 230 – 2 шт.,
- 2) Установка лабораторная - "Машина Атвуда"ФМ11 – 1шт.,
- 3) Установка лабораторная "Соударение шаров"ФМ17,
- 4) Установка лабораторная "Маятник Обербека"ФМ14– 1шт.,
- 5) Установка лабораторная "Модуль Юнга и модуль сдвига"ФМ19– 1шт.,
- 6) Осциллограф– 1шт.,
- 7) Установка изучения явления фотоэффекта– 1шт.,
- 8) Установка для изучения влажности воздуха– 1шт.,
- 9) Установка для изучения работы терморезистора – 1 шт.
- 10) Комплект демонстрационных устройств « Вращательное движение тел» ФДМ 019- 1 шт.
- 11) Стол для весов 600*400*750 СВ60-Г-1 шт.
- 12) Стол для конференций СФ 240-2шт.
- 13) Стол лабораторный 1500*650*900 на опорной тумбе-3шт.
- 14) Стол островной 1500*1500*900 СОВ150-Ф20-4шт.
- 15) Стол пристенный 1200*850*900- 43 шт.

- 16) Табурет винтовой СМ-29 -16 шт.
17) Стул мягкий – 1шт.

9. МЕТОДИЧЕСКИЕ УКАЗАНИЯ ДЛЯ ОБУЧАЮЩИХСЯ ПО ОСВОЕНИЮ ДИСЦИПЛИНЫ (МОДУЛЯ)

Взаимодействие с обучающимися осуществляется посредством электронной почты, форумов, интернет-групп, скайпа, чата, компьютерного тестирование, дистанционного занятия (олимпиады, конференции), вебинаров (семинар, организованный через интернет), подготовка проектов с использованием электронной оболочки АС Тестирование, портфолио студента, moodle и т.п.

Для основных видов учебной работы применяются образовательные технологии с использованием универсальных, специальных информационных и коммуникационных средств.

Контактная работа:

- лекции – проблемная лекция, лекция-дискуссия, лекция-презентация, лекция-диалог, лекция-консультация, интерактивная лекция (с применением социально-активных методов обучения), лекция с применением дистанционных технологий и привлечением возможностей Интернета;
- практические занятия - рефераты, доклады, дискуссии, тренировочные упражнения, решение задач и т.д.
- семинарские занятия – социально-активные методы (тренинг, дискуссия, мозговой штурм, деловая, ролевая игра, мультимедийная презентация, дистанционные технологии и привлечение возможностей Интернета);
- групповые консультации – опрос, интеллектуальная разминка, работа с лекционным и дополнительным материалом, перекрестная работа в малых группах, тренировочные задания, рефлексивный самоконтроль;
- индивидуальная работа с преподавателем - индивидуальная консультация, работа с лекционным и дополнительным материалом, беседа, морально-эмоциональная поддержка и стимулирование, дистанционные технологии.

Формы самостоятельной работы: устное, письменное, в форме тестирования, электронных тренажеров. В качестве самостоятельной подготовки в обучении используется - система дистанционного обучения Moodle.

Самостоятельная работа:

- работа с книгой и другими источниками информации, план-конспекты;
- реферативные (воспроизводящие), реконструктивно-вариативные, эвристические, творческие самостоятельные работы;
- проектные работы;
- дистанционные технологии.

1. Приложение 1.

- Входной контроль знаний;
- Текущий контроль знаний;
- Итоговый (остаточный) контроль знаний.

2. Приложение 2. "Методические рекомендации по выполнению самостоятельной работы студентов" предназначены для выполнения самостоятельной и контрольной работы в рамках реализуемых основных образовательных программ, соответствующих требованиям федеральных государственных образовательных стандартов высшего образования.

4. Приложение 3. "Методические рекомендации для студентов по балльно-рейтинговой оценке знаний" предназначены для определения процедуры оценивания знаний, умений, навыков у студентов а результате изучения каждого раздела дисциплины по балльно-рейтинговой системе.

10. ПРИЛОЖЕНИЕ

- 10.1. Фонд оценочных средств для проведения текущего контроля и промежуточной аттестации обучающихся по дисциплине (модулю).
- 10.2. Методические указания по выполнению лабораторных работ.
- 10.3. Методические рекомендации по выполнению контрольных работ.
- 10.4. Методические рекомендации по выполнению самостоятельной работы студентов.

Приложение 1 к РПД

МИНИСТЕРСТВО СЕЛЬСКОГО ХОЗЯЙСТВА РОССИЙСКОЙ ФЕДЕРАЦИИ
Федеральное государственное бюджетное образовательное учреждение
высшего образования
«АРКТИЧЕСКИЙ ГОСУДАРСТВЕННЫЙ АГРОТЕХНОЛОГИЧЕСКИЙ УНИВЕРСИТЕТ»
(ФГБОУ ВО Арктический ГАТУ)
Инженерный факультет
Кафедра энергообеспечения в АПК

ФОНД ОЦЕНОЧНЫХ СРЕДСТВ
для проведения промежуточной аттестации обучающихся

Дисциплина (модуль) Б1.О.10 Физика

Направление подготовки 35.03.07 Технология производства и переработки
сельскохозяйственной продукции

Направленность (профиль) образовательной программы Технология производства и
переработки сельскохозяйственной продукции

Квалификация выпускника Бакалавр

Форма обучения очная,

Общая трудоемкость / ЗЕТ 108/3

1. ПЕРЕЧЕН КОМПЕТЕНЦИЙ И ИНДИКАТОРОВ ДОСТИЖЕНИЙ УЧЕБНОЙ ДИСЦИПЛИНЫ (МОДУЛЯ)

Категория компетенций	Код и наименование компетенции	Код и наименование индикатора достижения компетенции
1	2	3
Системное и критическое мышление	УК -1: Способен осуществлять поиск, критический анализ и синтез информации, применять системный подход для решения поставленных задач	ИД-1 УК-1: анализирует задачу, выделяя этапы ее решения, действия по решению задачи, оценивая их преимущества и недостатки
		ИД-2 УК-1: находит, выбирает и критически анализирует информацию, необходимую для решения поставленной задачи ИД-3 УК-1: Грамотно, логично, аргументированно формирует собственные суждения и оценки. Отличает факты от мнений, интерпретаций, оценок в рассуждениях других участников деятельности
	ОПК-1: Способен решать типовые задачи профессиональной деятельности на основе знаний основных законов математических, естественнонаучных и общепрофессиональных дисциплин с применением информационно-коммуникационных технологий	ОПК-1.2: Умеет решать типовые задачи профессиональной деятельности на основе знаний основных законов физики

2. ПЛАНИРУЕМЫЕ РЕЗУЛЬТАТЫ ОБУЧЕНИЯ ПО ДИСЦИПЛИНЕ (МОДУЛЮ) И ПРОЦЕДУРА ОЦЕНИВАНИЯ КОМПЕТЕНЦИЙ

3.

Код компетенции	Код индикатора достижения компетенции	Планируемые результаты обучения по дисциплине (модулю)	Процедура оценивания компетенций (формы контроля)
2	3		
УК-1	ИД-1 УК-1	Знать: методы количественного анализа Уметь: находить методы количественного анализа Владеть: навыками находить методы анализа	Текущий контроль: Тестирование, Решение задач, Контрольная работа (опрос, задачи) Промежуточная аттестация: Экзамен
	ИД-2 УК-1	Знать: методы нахождения информации Уметь: находить методы нахождения информации Владеть: навыками находить методы нахождения информации	
	ИД-3 УК-1	Знать: информацию и формировать собственные суждения Уметь: формировать собственные суждения и оценки Владеть: навыками анализа, формирования собственного мнения и оценки. Отличать факты от мнений, интерпретаций, оценок в рассуждениях других участников деятельности	

ОПК-1	ИД-2 ОПК-1	Знать: основные законы физики; Уметь: решать типовые задачи профессиональной деятельности на основе знаний основных законов физики Владеть: навыками решения задачи профессиональной деятельности	
-------	------------	--	--

3. ШКАЛА ОЦЕНИВАНИЯ РЕЗУЛЬТАТОВ И КРИТЕРИИ ОЦЕНИВАНИЯ

Уровни освоения	Критерии оценивания	Шкала оценивания результатов (баллы, оценки)
Не освоены	Студент имеет разрозненные и несистематизированные знания учебного материала, не умеет выделять главное и второстепенное, допускает ошибки в определении основных понятий, искажает их смысл, не может самостоятельно излагать материал. Студент демонстрирует выполнение практических навыков и умений с грубыми ошибками.	0 – 60 балл. 2 (неудовлетворительно) Не зачтено
Пороговый	Студент освоил основные положения темы учебного занятия, однако при изложении учебного материала допускает неточности, излагает его неполно и непоследовательно, для изложения нуждается в наводящих вопросах со стороны преподавателя, испытывает сложности с обоснованием высказанных суждений. Студент владеет лишь некоторыми практическими навыками умениями.	61 – 75 балл. 3 (удовлетворительно) Зачтено
Базовый	Студент освоил учебный материал в полном объеме, хорошо ориентируется в учебном материале, излагает материал в логической последовательности, однако при ответе допускает неточности. Студент освоил полностью практические навыки и умения, предусмотренные рабочей программой дисциплины, однако допускает некоторые неточности.	76 – 85 балл. 4 (хорошо) Зачтено
Высокий	Студент показывает глубокие и полные знания учебного материала, при изложении не допускает неточностей и искажения фактов, излагает материал в логической последовательности, хорошо ориентируется в излагаемом материале, может дать обоснование высказываемым суждениям. Студент освоил полностью практические навыки и умения, предусмотренные рабочей программой дисциплины.	86 – 100 балл. 5 (отлично) Зачтено

4. Типовые контрольные задания или иные материалы, необходимые для оценки знаний, умений и навыков и (или) опыта деятельности, характеризующих этапы формирования компетенций в процессе освоения образовательной программы

4. ТЕКУЩИЙ КОНТРОЛЬ

Для оценки компетенции:

УК-1. Способен осуществлять поиск, критический анализ и синтез информации, применять системный подход для решения поставленных задач

ОПК-1: Способен решать типовые задачи профессиональной деятельности на основе знаний основных законов математических, естественнонаучных и общепрофессиональных дисциплин с применением информационно-коммуникационных технологий

КОНТРОЛЬНАЯ РАБОТА

Вариант 1.

1. Найти напряжение на железной проволоке длиной 200 м при силе тока в ней 1 А. Сечение проволоки имеет форму квадрата со стороной 3 мм. Удельное сопротивление железа $9 \cdot 10^{-8}$ Ом м.
А) 40 В Б) 20 В В) 2 В Г) 5 В
2. Сколько последовательно соединенных электрических лампочек надо взять для елочной гирлянды, чтобы ее можно было включить в сеть напряжением 220В, если каждая лампочка имеет сопротивление 20 Ом и горит полным накалом при силе тока 0,5 А?
А) 22 Б) 3 В) 20 Г) 5
3. Источник постоянного тока с ЭДС 15В и внутренним сопротивлением 1,4 Ом питает внешнюю цепь, состоящую из двух параллельно соединенных сопротивлений 2 и 8 Ом. Найти разность потенциалов на зажимах источника.
А) 15 В Б) 8В В) 3 В Г) 5 В
4. В цепи, состоящей из источника тока с ЭДС 12В и внутренним сопротивлением 2 Ом и реостата, идет ток силой 2 А. Какова будет сила тока в цепи, если сопротивление реостата уменьшить в 4 раза?
А) 10А Б) 3А В) 4А Г) 15 А

Вариант 2.

1. Номинальная мощность лампочки 36 Вт, ее номинальное напряжение 120В. Какая в ней будет выделяться мощность при включении в сеть с напряжением 220В?
А) 10 Вт Б) 121 Вт В) 207 Вт Г) 5 Вт
2. Определите сопротивление нихромовой проволоки длиной 2 м и массой 1,66 г. Удельное сопротивление нихрома 10^{-6} Ом м, плотность 8300 кг/м^3
А) 10 Б) 73 В) 20 Г) нет правильного ответа
3. В проводнике сопротивлением 4 Ом, подключенной к элементу с ЭДС 4,4В, идет ток силой 1 А. Найти ток короткого замыкания элемента.
А) 11 Б) 36 В) 2 Г) 5
4. При замыкании элемента на сопротивление 1,8 Ом в цепи идет ток силой 1,4 А, а при замыкании на сопротивление 4,6 Ом сила тока в цепи 0,28А. Найти ток короткого замыкания.
А) 20 Б) 37 В) 21 Г) нет правильного ответа
5. Два проводника с сопротивлениями 14 и 10 Ом соединяют параллельно и подключают к источнику тока. В первом проводнике выделилось 300 Дж теплоты. Какое количество теплоты выделится во втором проводнике за то же время?
А) 1000 Б) 420 В) 200 Г) 600

Вариант 3

1. Батарея с ЭДС 40В имеет внутреннее сопротивление 2 Ом. При каком внешнем сопротивлении сила тока в цепи будет 4А?
А) 10 Б) 3 В) 8 Г) 5
2. Два сопротивления 30 и 20 Ом, соединенные параллельно, подключены к аккумулятору, ЭДС которого 14 В. Сила тока в общей цепи 1А. Найти ток короткого замыкания.
А) 10 Б) 2 В) 7 Г) нет правильного ответа
3. Источник тока с ЭДС 24В и внутренним сопротивлением 2 Ом питает три параллельно соединенных сопротивления по 6 Ом каждое. Определите напряжение на одном сопротивлении.
А) 12 Б) 3 В) 8 Г) нет правильного ответа
4. На сколько изменится температура воды в калориметре, если через нагреватель пройдет заряд 100 Кл? Напряжение на нагревателе 210 В, масса воды 1 кг, удельная теплоемкость воды 4200 Дж/(кг К) .
А) 10 Б) 3 В) 20 Г) 5
5. Элемент замкнут на внешнее сопротивление, величина которого в 2 раза больше величины внутреннего сопротивления элемента. Найти ЭДС элемента, если на внешнем сопротивлении выделяется мощность 18 Вт при силе тока в цепи 3 А.
А) 15 Б) 3 В) 2 Г) 5

Вариант 4

1. Какова длина никелинового провода с площадью сечения 1 мм^2 , если его сопротивление 100 Ом? Удельное сопротивление никелина $4 \cdot 10^{-7}$ Ом м.
А) 200 Б) 3 В) 250 Г) нет правильного ответа
2. В электрическую сеть включены последовательно плитка и реостат, сопротивления которых равны 50 и 75 Ом соответственно. Определите напряжение на реостате, если напряжение на плитке 90В.
А) 110 Б) 135 В) 120 Г) 160

- А) 9 Б) 3 В) 5 Г) нет правильного ответа
5. На катушке с сопротивлением 10 Ом поддерживается напряжение 50В. Чему равна энергия (в мДж) магнитного поля, запасенная в катушке, если ее индуктивность 20 мГн?
- А) 160 Б) 250 В) 20 Г) нет правильного ответа

Вариант 8.

1. По горизонтально расположенному проводнику длиной 20 см и массой 4 кг течет ток силой 10 А. Найти минимальную величину индукции магнитного поля, в которое нужно поместить проводник, чтобы сила тяжести уравновесилась магнитной силой. $g = 10 \text{ м/с}^2$
- А) 10 Б) 3 В) 5 Г) 20
2. Максимальный момент сил, действующих на прямоугольную рамку с током силой 50А в однородном магнитном поле, равен 1 Н м. Какова индукция поля, если ширина рамки 10 см, а длина 20 см?
- А) 90 Б) 1 В) 20 Г) 18
3. Электрон движется в однородном магнитном поле с индукцией 0,02 Тл по окружности, имея импульс $6,4 \cdot 10^{-23}$ кг м/с. Найти радиус (в см) этой окружности. Заряд электрона $1,6 \cdot 10^{-19}$ Кл.
- А) 10 Б) 3 В) 2 Г) 25
4. Квадратная рамка со стороной 10 см расположена в однородном магнитном поле с индукцией 0,2 Тл так, что нормаль к ее поверхности образует угол 45° с вектором индукции. Определите магнитный поток (в мВб) через плоскость рамки.
- А) 710 Б) 83 В) 320 Г) 1
5. В катушке с индуктивностью 6 мГн при равномерном увеличении силы тока на 40А возникла ЭДС самоиндукции 8В. Сколько миллисекунд длилось увеличение тока?
- А) 30 Б) 3 В) 20 Г) нет правильного ответа

Ответы:

№ варианта	1	2	3	4	5
1	в	а	в	б	в
2	б	в	а	г	б
3	в	в	а	г	б
4	в	б	г	г	в
5	а	в	г	б	г
6	г	в	а	б	а
7	б	в	г	б	б
8	г	б	в	г	а

ТЕСТЫ

Для оценки компетенции:

УК-1. Способен осуществлять поиск, критический анализ и синтез информации, применять системный подход для решения поставленных задач

ОПК-1: Способен решать типовые задачи профессиональной деятельности на основе знаний основных законов математических, естественнонаучных и общепрофессиональных дисциплин с применением информационно-коммуникационных технологий

Задание N 1

Материальная точка совершает гармонические колебания по закону

$$x = 0,9 \cos\left(\frac{2\pi}{3}t + \frac{\pi}{4}\right) \quad . \text{ Уравнение изменения ускорения точки имеет вид...}$$

ВАРИАНТЫ ОТВЕТОВ:

- 1) $x = 0,4\pi^2 \cos\left(\frac{2\pi}{3}t + \frac{\pi}{4}\right)$
- 2) $x = 0,6\pi^2 \cos\left(\frac{2\pi}{3}t + \frac{\pi}{4}\right)$
- 3) $x = -0,6\pi \sin\left(\frac{2\pi}{3}t + \frac{\pi}{4}\right)$
- 4) $x = -0,4\pi^2 \cos\left(\frac{2\pi}{3}t + \frac{\pi}{4}\right)$

Задание N 2

Если уравнение плоской синусоидальной волны, распространяющейся вдоль оси ОХ, имеет вид $\xi = 0,2 \cos 2\pi \left(t - \frac{x}{100}\right)$, то длина волны равна...

ВАРИАНТЫ ОТВЕТОВ:

- 1) 200м
- 2) 10м
- 3) 100м
- 4) 20м

Задание N 3

Свободные затухающие колебания заряда конденсатора в колебательном контуре описываются уравнением

ВАРИАНТЫ ОТВЕТОВ:

- 1) $\frac{d^2q}{dt^2} + \frac{R}{L} \frac{dq}{dt} + \frac{1}{LC} q = 0$
- 2) $\frac{d^2q}{dt^2} + \frac{1}{LC} q = 0$
- 3) $\frac{d^2q}{dt^2} + \frac{R}{L} \frac{dq}{dt} + \frac{1}{LC} q = \frac{U_0}{L} \cos \omega t$

Задание N 4

Для сферической волны справедливо утверждение...

ВАРИАНТЫ ОТВЕТОВ:

- 1) Амплитуда волны не зависит от расстояния до источника колебаний (при условии, что поглощением среды можно пренебречь)
- 2) Волновые поверхности имеют вид параллельных друг другу плоскостей
- 3) Амплитуда волны обратно пропорциональна расстоянию до источника колебаний (в непоглощающей среде)

Задание N 5

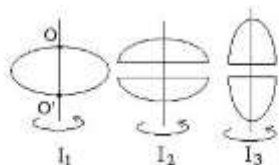
В изолированной механической системе при действии консервативных сил...

ВАРИАНТЫ ОТВЕТОВ:

- 1) Кинетическая энергия и потенциальная энергия каждого тела остаются постоянными
- 2) Сумма кинетической и потенциальной энергии всех тел системы есть величина постоянная
- 3) Сумма кинетической и потенциальной энергии каждого тела системы является постоянной величиной
- 4) Сумма кинетической и потенциальной энергий системы всегда равна нулю.

Задание N 6

Из жести вырезали три одинаковые детали в виде эллипса. Две детали разрезали пополам вдоль разных осей симметрии. Затем все части отодвинули друг от друга на одинаковое расстояние и расставили симметрично относительно оси OO^1 .



Для моментов инерции относительно оси OO^1 справедливо соотношение

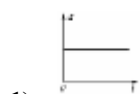
ВАРИАНТЫ ОТВЕТОВ:

- 1) $I_1 = I_2 > I_3$
- 2) $I_1 < I_2 = I_3$
- 3) $I_1 < I_2 < I_3$
- 4) $I_1 > I_2 > I_3$

Задание N 7

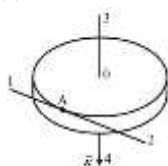
График зависимости модуля полного ускорения от времени для равномерного движения тела по окружности изображен на рисунке....

ВАРИАНТЫ ОТВЕТОВ:



Задание N 8

Диск радиуса R вращается вокруг вертикальной оси равноускоренно с заданным направлением вектора углового ускорения ϵ . Укажите направление вектора линейной скорости V точки A, лежащей на ободу диска...



ВАРИАНТЫ ОТВЕТОВ:

- 1) 3
- 2) 2
- 3) 4
- 4) 1

Задание N 9


Состояние идеального газа определяется значениями параметров: T_0, p_0, V_0 , где T - термодинамическая температура, P - давление, V - объем газа. Определенное количество газа перевели из состояния (P_0, V_0) в состояние $(P_0, \frac{1}{2}V_0)$. При этом его внутренняя энергия...

ВАРИАНТЫ ОТВЕТОВ:

- 1) уменьшилась
- 2) не изменилась
- 3) увеличилась

Задание N 10

На (P, V) - диаграмме изображен циклический процесс.



Если ΔU – изменение внутренней энергии идеального газа, A – работа газа, Q – теплота, сообщаемая газу, то для процесса CD справедливы соотношения...

ВАРИАНТЫ ОТВЕТОВ:

- 1) $Q < 0$ $A = 0$ $\Delta U < 0$
- 2) $Q < 0$ $A < 0$ $\Delta U < 0$
- 1) $Q < 0$ $A < 0$ $\Delta U = 0$
- 1) $Q = 0$ $A > 0$ $\Delta U < 0$

Задание N 11

Средняя кинетическая энергия молекулы идеального газа при температуре T равна

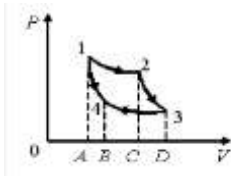
$\varepsilon = \frac{i}{2} kT$. Здесь $i = n_n + n_{вр} + 2n_k$, где n_n , $n_{вр}$, n_k – число степеней свободы поступательного, вращательного и колебательного движений молекулы. Для гелия (He) число i равно...

ВАРИАНТЫ ОТВЕТОВ:

- 1) 3
- 2) 7
- 3) 1
- 4) 5

Задание N 12

На V - P диаграмме представлен цикл Карно. Графически работа при адиабатическом расширении изображена площадью фигуры



ВАРИАНТЫ ОТВЕТОВ:

- 1) B43D
- 2) A12C
- 3) A14B
- 4) C23D

Задание N 13

Вблизи длинного проводника с током (ток направлен к нам) пролетает электрон со скоростью V .



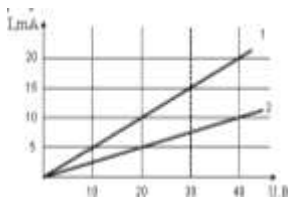
Сила Лоренца...

ВАРИАНТЫ ОТВЕТОВ:

- 1) направлен вправо
- 2) равна нулю
- 3) направлена от нас
- 4) направлена к нам
- 5) направлена влево

Задание N 14

Вольт-амперная характеристика активных элементов цепи 1 и 2 представлен на рисунке




На элементе 1 при токе 15 мА выделяется мощность...

ВАРИАНТЫ ОТВЕТОВ:

- 1) 0,30 Вт
- 2) 450 Вт
- 3) 15 Вт
- 4) 0,45 Вт

Задание N 15

В электрическом поле плоского конденсатора перемещается заряд $+q$ в направлении, указанном стрелкой.



Тогда работа сил поля на участке АВ...

ВАРИАНТЫ ОТВЕТОВ:

- 1) отрицательна
- 2) равна нулю
- 3) положительна

Задание N 16

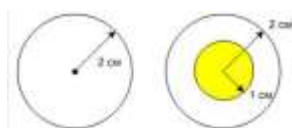
Магнитное поле создано двумя параллельными длинными проводниками с токами I_1 и I_2 , расположенными перпендикулярно плоскости чертежа. Если $I_2=2I_1$, то вектор B индукции результирующего поля в точке А направлен...



ВАРИАНТЫ ОТВЕТОВ:

- 1) влево
- 2) вправо
- 3) вверх
- 4) вниз

Задание N 17



На рисунке изображены точечный заряд, заряженный шарик радиусом 1 см и сфера радиуса 2 см. Величины зарядов шарика и точечного заряда одинаковы. Сравнивая поток вектора напряженности электрического поля через сферу радиуса 2 см от точечного заряда и шарика, можно убедиться, что...

ВАРИАНТЫ ОТВЕТОВ:

- 1) поток заряженной сферы больше
- 2) поток равен нулю в обоих случаях
- 3) поток точечного заряда больше

- 4) поток одинаковый
- 5) ответ неоднозначный, зависит от выбора систем отсчета

Задание N 18

Индуктивность рамки $L=40\text{мГн}$. Если за время $\Delta t=0,01\text{с}$ сила тока в рамке увеличилась на $\Delta I=0,2\text{А}$, то ЭДС самоиндукции, наведенная в рамке, равна...

ВАРИАНТЫ ОТВЕТОВ:

- 1) 80мВ
- 2) 8мВ
- 3) 8В
- 4) 0,8В

Задание N 19

Активность некоторого изотопа за 10 суток уменьшилась на 50%. Период полураспада этого изотопа

ВАРИАНТЫ ОТВЕТОВ:

- 1) 20 суток
- 2) 5 суток
- 3) 7 суток
- 4) 30 суток
- 5) 10 суток

Задание N 20

Из перечисленных ниже превращений к β^- -распаду относится

ВАРИАНТЫ ОТВЕТОВ:

- 1) ${}^A_ZX + e^- \rightarrow {}^A_{Z-1}X + \nu$
- 2) ${}^A_ZX \rightarrow {}^A_{Z-1}X + e^+ + \nu_e$
- 3) ${}^A_ZX \rightarrow {}^A_{Z+1}X + e^- + \nu_e$
- 4) ${}^A_ZX \rightarrow {}^A_{Z-1}X + {}^4_2\text{He}$

Задание N 21

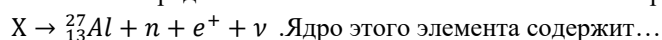
Де Бройль обобщил соотношение $p = \frac{h}{\lambda}$ для фотона на любые волновые процессы, связанные с частицами, импульс которых равен p . Тогда, если длина волны де Бройля частиц одинакова, то наименьшей скоростью обладают...

ВАРИАНТЫ ОТВЕТОВ:

- 1) протоны
- 2) α -частицы
- 3) электроны
- 4) нейтроны

Задание N 22

Неизвестный радиоактивный химический элемент самопроизвольно распадается по схеме:



ВАРИАНТЫ ОТВЕТОВ:

- 1) 14 протонов и 15 нейтронов
- 2) 15 протонов и 13 нейтронов
- 3) 14 протонов и 14 нейтронов
- 4) 15 протонов и 14 нейтронов

Задание N 23

При интерференции двух когерентных волн с длиной волны 2 мкм интерференционный максимум наблюдается при разности хода волн, равной...

ВАРИАНТЫ ОТВЕТОВ:

- 1) 1 мкм
- 2) 1,5 мкм
- 3) 0,5 мкм
- 4) 2 мкм

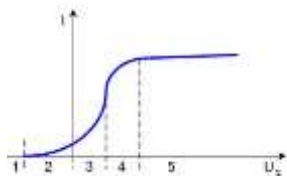
Задание N 24

Когерентные волны с начальными фазами φ_1 и φ_2 и разностью хода Δ при наложении максимально усиливаются при выполнении условия ($k=0,1,2$)

ВАРИАНТЫ ОТВЕТОВ:

- 1) $\varphi_1 - \varphi_2 = 2k\pi$
- 2) $\varphi_1 - \varphi_2 = \frac{\pi}{2}$
- 3) $\varphi_1 - \varphi_2 = (2k + 1)\pi$
- 4) $\Delta = (2k + 1)\frac{\lambda}{2}$

Задание N 25



Полному торможению всех вылетевших в результате фотоэмиссии электронов на графике ВАХ внешнего фотоэффекта соответствует область, отмеченная цифрой...

ВАРИАНТЫ ОТВЕТОВ:

- 1) 4
- 2) 3
- 3) 2
- 4) 5
- 5) 1

Задание N 26

Два источника излучают свет с длиной волны 375 нм и 750 нм. Отношение импульсов фотонов, излучаемых первым и вторым источником равно...

ВАРИАНТЫ ОТВЕТОВ:

- 1) 2
- 2) 1/4
- 3) 1/2
- 4) 4

КОДЫ ПРАВИЛЬНЫХ ОТВЕТОВ:

1	2	3	4	5	6		7	8	9	10	11	12	13
4	3	1	3	2	1		2	4	1	2	1	4	1
14	15	16	17	18	19		20	21	22	23	24	25	26
4	2	4	4	4	5		3	2	3	4	1	3	1

Критерии оценивания:

$$K = \frac{A}{P};$$

где К – коэффициент усвоения, А – число правильных ответов, Р – общее число вопросов в тесте.

$$5 = 0,91-1$$

$$4 = 0,76-0,9$$

$$3 = 0,61-0,75$$

$$2 = 0,6$$

4.2. ПРОМЕЖУТОЧНАЯ АТТЕСТАЦИЯ

Перечень экзаменационных вопросов (заданий)

Для оценки компетенции:

УК-1. Способен осуществлять поиск, критический анализ и синтез информации, применять системный подход для решения поставленных задач

ОПК-1: Способен решать типовые задачи профессиональной деятельности на основе знаний основных законов математических, естественнонаучных и общепрофессиональных дисциплин с применением информационно-коммуникационных технологий

1. Дайте определение материальной точки, средней скорости, мгновенной скорости.
2. Виды сил в механике
3. Абсолютно неупругий и абсолютно упругий удары шаров. Закон сохранения импульса.
4. Инерциальная система отсчета. Законы Ньютона.
5. Виды энергии. Закон сохранения и превращения энергии
6. Момент инерции. Основной закон динамики вращательного движения твердого тела.
7. Механические гармонические колебания.
8. Свободные гармонические колебания в колебательном контуре.
9. Полная энергия гармонического осциллятора.
10. Затухающие колебания
11. Вынужденные механические колебания.
12. Электромагнитные вынужденные колебания.
13. Два гармонических колебания при сложении взаимно гасят друг друга. Охарактеризуйте эти колебания (их направления, амплитуды, частоты, фазы).
14. Образование волн. Продольные и поперечные волны. Принцип Гюйгенса. Стоячая волна.
15. Виды деформаций. Закон Гука. Физический смысл модуля Юнга.
16. Поверхностное натяжение.
17. Смачивание.
18. Сила трения и вязкость. Закон Ньютона.
19. Гидродинамика вязкой жидкости. Закон Стокса.
20. Расход жидкости. Формула Пуазейля.
21. Законы гемодинамики.
22. Основные физические характеристики инфра- и ультразвука. Эффект Доплера.
23. Электростатическое поле. Закон Кулона.
24. Постоянный электрический ток и его действие на организм
25. Магнитное поле. Закон Ампера. Закон Лоренца.
26. Электромагнитная индукция.
27. Переменный электрический ток.
28. Упругие и электромагнитные волны. Шкала электромагнитных волн.
29. Геометрическая оптика. Основные фотометрические величины.
30. Волновая оптика. Интерференция. Дифракция.
31. Дисперсия света.
32. Поляризация света.
33. Законы теплового излучения.
34. Фотоэффект. Законы фотоэффекта.
35. Поглощение света. Закон Бугера. Закон Бэра.
36. Строение атома.
37. Люминесценция. Виды. Правило Стокса.
38. Световое давление.
39. Строение ядра.
40. Понятие об ядерных силах

41. Закон радиоактивного распада. Период полураспада
42. Понятие об ядерных реакциях. Законы сохранения в ядерных реакциях.
43. Понятие об элементарных частицах
44. Фундаментальные взаимодействия.

Критерии оценивания:

«Отлично» - заслуживает студент, обнаруживший всестороннее, систематическое и глубокое знание учебно-программного материала, умение свободно выполнять задания, предусмотренные программой, усвоивший основную и знакомый с дополнительной литературой, рекомендованной программой. Как правило, оценка «отлично» выставляется студентам, усвоившим взаимосвязь основных понятий дисциплины в их значении для приобретаемой профессии, проявившим творческие способности в понимании, изложении и использовании учебно-программного материала.

«Хорошо» - заслуживает студент, обнаруживший полное знание учебно-программного материала, успешно выполняющий предусмотренные в программе задания, усвоивший основную литературу, рекомендованную в программе. Как правило, оценка «хорошо» выставляется студентам, показавшим систематический характер знаний по дисциплине и способным к их самостоятельному пополнению и обновлению в ходе дальнейшей учебной работы и профессиональной деятельности.

«Удовлетворительно» - заслуживает студент, обнаруживший знания основного учебно-программного материала в объеме, необходимом для дальнейшей учебы и предстоящей работы по специальности, справляющийся с выполнением заданий, предусмотренных программой, знакомый с основной литературой, рекомендованной программой. Как правило, оценка «удовлетворительно» выставляется студентам, допустившим погрешности в ответе на экзамене и при выполнении экзаменационных заданий, но обладающим необходимыми знаниями для их устранения под руководством преподавателя.

«Неудовлетворительно» - выставляется студенту, обнаружившему пробелы в знаниях основного учебно-программного материала, допустившему принципиальные ошибки в выполнении предусмотренных программой заданий. Как правило, оценка «неудовлетворительно» ставится студентам, которые не могут продолжить обучение или приступить к профессиональной деятельности по окончании вуза без дополнительных занятий по соответствующей дисциплине.

5. МЕТОДИЧЕСКИЕ МАТЕРИАЛЫ, ОПРЕДЕЛЯЮЩИЕ ПРОЦЕДУРЫ ОЦЕНИВАНИЯ ЗНАНИЙ, УМЕНИЙ, НАВЫКОВ

5.1. ПРОЦЕДУРА ОЦЕНИВАНИЯ – ПОРЯДОК ДЕЙСТВИЙ ПРИ ПОДГОТОВКЕ И ПРОВЕДЕНИИ АТТЕСТАЦИОННЫХ ИСПЫТАНИЙ И ФОРМИРОВАНИИ ОЦЕНКИ

Справочная таблица процедур оценивания

№п /п	Процедуры оценивания	Краткая характеристика	Необходимое наличие материалов по оценочному средству в фонде	Критерии оценивания (примеры описания ¹)	Возможность формирования компетенции на каждом этапе		
					Знания	Навыки	Умения
1	Тест (Т)	Система стандартизированных заданий, позволяющая автоматизировать процедуру измерения уровня знаний и умений обучающегося.	Фонд тестовых заданий	$K = \frac{A}{P}$ K – коэффициент усвоения, A – число правильных ответов, P – общее число вопросов в тесте. 5 = 0,85-1 4 = 0,7-0,84 3 = 0,6-0,69 2 = > 0,59	+		
2	Контрольная работа (К)	Средство для проверки умений применять полученные знания для решения задач определенного типа по теме или разделу	Комплект контрольных заданий по вариантам	<ul style="list-style-type: none"> • отлично – выполнено правильно 100% заданий, работа выполнена по стандартной методике, излагаются аргументированные выводы, полностью выполнена графическая часть работы; • хорошо – выполнено правильно не менее 70% заданий, работа выполнена по стандартной методике, в освещении вопросов не содержится грубых ошибок, по ходу решения сделаны аргументированные выводы, самостоятельно выполнена графическая часть работы; • удовлетворительно – выполнено правильно не менее 50% заданий, работа выполнена по стандартной или самостоятельно разработанной методике, в освещении вопросов не содержится грубых ошибок, по ходу решения 	+	+	

¹ Обратите внимание, что в графе «Критерии оценивания» даны примеры критериев для оценивания типовых контрольных заданий, преподаватель имеет право скорректировать предложенные с учетом специфики дисциплины или дать свои собственные.

				<p>сделаны аргументированные выводы, самостоятельно выполнена графическая часть работы;</p> <p>неудовлетворительно - студент не справился с заданием (выполнено правильно менее 50% задания варианта), не раскрыто основное содержание вопросов, имеются грубые ошибки в освещении вопроса, в решении задач, в выполнении графической части задания и т.д., а также выполнена не самостоятельно.</p>			
3	Устный ответ (У)	Средство контроля, организованное как специальная беседа преподавателя с обучающимся на темы, связанные с изучаемой дисциплиной, и рассчитанное на выяснение объема знаний обучающегося по определенному разделу, теме, проблеме и т.п.	Темы и вопросы для обсуждения	<p>При оценке ответа студента надо руководствоваться следующими критериями, учитывая:</p> <ol style="list-style-type: none"> 1) полноту и правильность ответа; 2) степень осознанности, понимания изученного; 3) языковое оформление ответа. <p>Отметка "5" ставится, если студент:</p> <ol style="list-style-type: none"> 1) полно излагает изученный материал, даёт правильное определение понятий; 2) обнаруживает понимание материала, может обосновать свои суждения, применить знания на практике, привести необходимые примеры не только по учебнику, но и самостоятельно составленные; 3) излагает материал последовательно и правильно с точки зрения норм литературного языка. <p>Отметка "4" ставится, если студент даёт ответ, удовлетворяющий тем же требованиям, что и для отметки "5", но допускает 1-2 ошибки, которые сам же исправляет, и 1-2 недочёта в последовательности и языковом оформлении излагаемого.</p> <p>Отметка "3" ставится, если студент обнаруживает знание и понимание основных положений данной темы, но:</p> <ol style="list-style-type: none"> 1) излагает материал неполно и допускает неточности в определении понятий или формулировке правил; 2) не умеет достаточно глубоко и доказательно обосновать свои суждения и привести свои примеры; 3) излагает материал непоследовательно и допускает ошибки в языковом оформлении излагаемого. <p>Отметка "2" ставится, если студент обнаруживает незнание большей части соответствующего раздела изучаемого материала, допускает ошибки в формулировке определений и правил, искажающие их смысл, беспорядочно и неуверенно излагает материал. Оценка "2" отмечает такие недостатки в подготовке ученика, которые являются серьёзным препятствием к успешному овладению последующим материалом.</p>	+		
4	Экзамен (Э), зачет (З)	Курсовые экзамены по всей дисциплине или ее части преследуют цель	Вопросы для подготовки.	Оценки "отлично" заслуживает студент, обнаруживший всестороннее, систематическое и глубокое знание учебно-программного материала, умение свободно выполнять задания, предусмотренные программой, усвоивший основную	+	+	+

		<p>оценить работу студента за курс (семестр), полученные теоретические знания, прочность их, развитие творческого мышления, приобретение навыков самостоятельной работы, умение синтезировать полученные знания и применять их к решению практических задач.</p>	<p>Комплект экзаменационных билетов.</p>	<p>и знакомый с дополнительной литературой, рекомендованной программой. Как правило, оценка "отлично" выставляется студентам, усвоившим взаимосвязь основных понятий дисциплины в их значении для приобретаемой профессии, проявившим творческие способности в понимании, изложении и использовании учебно-программного материала.</p> <p>Оценки "хорошо" заслуживает студент обнаруживший полное знание учебно-программного материала, успешно выполняющий предусмотренные в программе задания, усвоивший основную литературу, рекомендованную в программе. Как правило, оценка "хорошо" выставляется студентам, показавшим систематический характер знаний по дисциплине и способным к их самостоятельному пополнению и обновлению в ходе дальнейшей учебной работы и профессиональной деятельности.</p> <p>Оценки "удовлетворительно" заслуживает студент, обнаруживший знания основного учебно-программного материала в объеме, необходимом для дальнейшей учебы и предстоящей работы по специальности, справляющийся с выполнением заданий, предусмотренных программой, знакомый с основной литературой, рекомендованной программой. Как правило, оценка "удовлетворительно" выставляется студентам, допустившим погрешности в ответе на экзамене и при выполнении экзаменационных заданий, но обладающим необходимыми знаниями для их устранения под руководством преподавателя.</p> <p>Оценка "неудовлетворительно" выставляется студенту, обнаружившему пробелы в знаниях основного учебно-программного материала, допустившему принципиальные ошибки в выполнении предусмотренных программой заданий. Как правило, оценка "неудовлетворительно" ставится студентам, которые не могут продолжить обучение или приступить к профессиональной деятельности по окончании вуза без дополнительных занятий по соответствующей дисциплине.</p>			
--	--	--	--	--	--	--	--

1.2.Критерии сформированности компетенций по разделам (темам) содержания дисциплины

Код занятия	Наименование разделов и тем/вид занятия/	Компетенции	Процедура оценивания	Всего баллов	Не освоены	Уровень 1	Уровень 2	Уровень 3
1	Раздел 1. Физические основы механики	УК-1 ОПК-1	У Т	15	0-10	11	13	15
2	Раздел 2. Колебания и волны	УК-1 ОПК-1	У Т	15	0-10	11	13	15
3	Раздел 3. Основы молекулярной физики и термодинамики	УК-1 ОПК-1	У Т	15	0-10	11	14	15
4	Раздел 4. Электричество и магнетизм	УК-1 ОПК-1	У Т	15	0-10	12	14	15
5	Раздел 5. Оптика	УК-1 ОПК-1	У Т	20	0-10	15	18	20
6	Раздел 6. Атомная и ядерная физика	УК-1 ОПК-1	У Т	20	0-10	15	18	20
	Экзамен		У	100	0-60	60-75	76-90	91-100

* - указать У- устный ответ, К- контрольная работа, Т- тестовое задание и т.п.

